

نام و نام خانوادگی:

زمان:


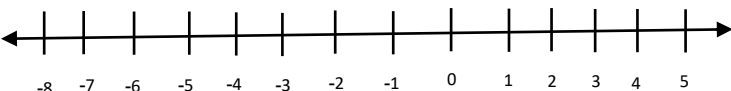
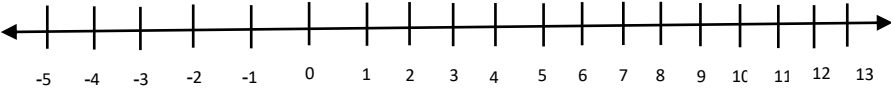
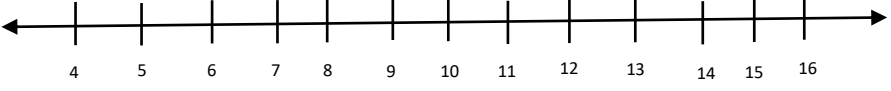
استان:

طراح: ابوالفضل ایزی

تاریخ:

نویس:



بارم	سؤالات	ردیف
	<p>مقایسه کنید و علامت $< = >$ قرار دهید.</p> <p>$-180 \bigcirc +180$ $-2 \bigcirc -86$ $0 \bigcirc 20$</p> <p>$-30 \bigcirc -20$ $86 \bigcirc -250$ $-90 \bigcirc 0$</p>	1
	<p>در یک روز سرد زمستانی دمای هوای پاریس 12 درجه زیر صفر است و هوای لندن 25 درجه گرم تر از پاریس است. دمای هوا لندن را با کمک محور اعداد صحیح بدست آورید.</p> 	2
	<p>قرینه ی اعداد نسبت به مبدا داده شده را بدست آورید.</p> <p>الف) قرینه ی 3 نسبت به -2</p>  <p>ب) قرینه ی -4 نسبت به 5</p>  <p>ج) قرینه ی 7 نسبت به 11</p> 	3

<p>اگر سال 1404 را مبدا و هر سال را یک واحد در نظر بگیریم، هر یک از سال های زیر را با یک عدد صحیح نشان دهید.</p> <p style="text-align: center;"> سال 1388 سال 1402 </p> <p style="text-align: center;"> سال 1390 سال 1502 </p>	4																				
<p>اگر 4 تا بیشتر از 3 برابر عددی را نصف کنیم حاصل 20 می شود. قرینه ی این عدد چند است؟</p>	5																				
<p>اگر روی محور اعداد صحیح از خانه ی 5-، 4 واحد به سمت چپ حرکت کنیم بعد از 4 حرکت روی چه خانه ای قرار می گیریم؟</p>	6																				
<p>تعدادی بازی پلی استیشن 5 را می خواهیم دسته بندی کنیم، اگر به دسته های 3، 5 و 9 تایی این کار را انجام دهیم، هر بار 2 بازی اضافه می ماند. حداقل تعداد بازی های موجود چند تا است؟</p>	7																				
<p>می خواهیم 1404 جعبه خودکار را بین مدارس یک شهر تقسیم کنیم بطوری که به هر مدرسه 5 جعبه خودکار برسد. مشخص کنید چند جعبه اضافه می ماند؟</p>	8																				
<p>جدول زیر را کامل کنید.</p> <table border="1" style="width: 100%; border-collapse: collapse; text-align: center;"> <thead> <tr> <th style="width: 20%;">عدد</th> <th style="width: 20%;">بخش پذیر بر 2</th> <th style="width: 20%;">بخش پذیر بر 3</th> <th style="width: 20%;">بخش پذیر بر 5</th> <th style="width: 20%;">بخش پذیر بر 9</th> </tr> </thead> <tbody> <tr> <td>120390042</td> <td></td> <td></td> <td></td> <td></td> </tr> <tr> <td>7475</td> <td></td> <td></td> <td></td> <td></td> </tr> <tr> <td>1400235</td> <td></td> <td></td> <td></td> <td></td> </tr> </tbody> </table>	عدد	بخش پذیر بر 2	بخش پذیر بر 3	بخش پذیر بر 5	بخش پذیر بر 9	120390042					7475					1400235					9
عدد	بخش پذیر بر 2	بخش پذیر بر 3	بخش پذیر بر 5	بخش پذیر بر 9																	
120390042																					
7475																					
1400235																					
<p>جمع نمرات</p>																					